

SKEPPENDE KUNS: MUSIEK – GR. 8 NOVEMBER 2017

VRAAG 1

1.1 Skryf die letternaam van die volgende note. (5)

1.2 Skryf die volgende *kwartnote* (10)

1.3 Voeg 'n G- of F-sleutel voor aan elk van die volgende note. (5)

[20]


VRAAG 2

2.1 Trek 'n sirkel om die kortste nootwaarde in elke groep. (4)

2.2 Skryf 'n noot gelykstaande aan die volgende nootwaardes. (4)



2.3 Aan hoeveel agstenote is elke groep gelykstaande? (4)



2.4 Skryf die noot se rusteken (4)



2.5 Skryf 'n rusteken met helfte van die waarde van die gegewe noot (5)




2.5 Voeg maatlyne by die volgende: (2)




2.6 Voeg die korrekte tydmaatteken by die volgende. (2)



3.4 Skryf D majeur, in die G sleutel, opgaande, sonder toonsoorttekens, dui die halftone aan. (5)



3.5 Skryf F majeur, in die sopraansleutel, afgaande, met toonsoorttekens. Dui die halftone aan. (5)



3.6 Skryf (transkribeer) die volgende frases van balk notasie na solfanotasië (5)



[27]

VRAAG 4

4.1 Pas kolom **B** by kolom **A**. Skryf die antwoord in die **ANTWOORD** kolom (8)

	A		B	ANTWOORD
1	Triool	A	Matige tempo	1.
2	Allegro	B	hard	2.
3	crescendo	C	klankvlakke	3.
4	fortè	D	sag	4.
5	Dinamiek	E	Geleidelik stadiger	5.
6	Moderato	F	Geleidelik harder	6.
7	Piano	G	Polsslag verdeel in drie gelyke dele	7.
8	ritardando	H	klanksterkte	8.
		I	vinnig	

4.2 Klassifiseer die instrumente.

(8)

Snaartrom	Xilofoon	keteltrom	klavier
harp	trompet	marimba	klarinet

Membranofoon	Idiofoon	Kordofoon	Aërofoon

[16]

TOTAAL $100 \div 2 = 50$