

TAAK 4: DATA HANTERING 2022: Toerisme Graad 10 KABV

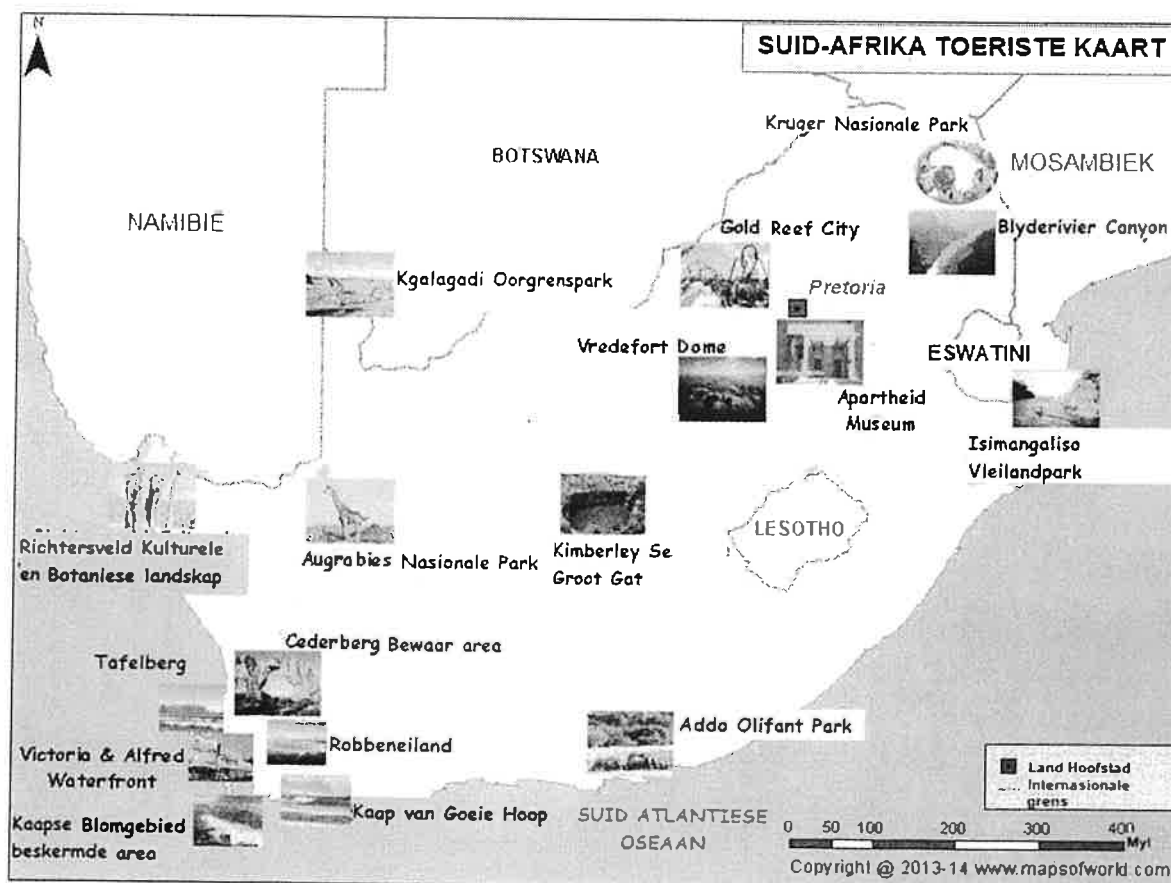
Skole	: Ekurhuleni Noord
Datum	: Augustus 2022
Tyd	: 1 uur
Punte	: 50
Eksaminator	: P. Bennie
Eksterne Moderator	: A. Saayman

INSTRUKSIES EN INLIGTING

1. Beantwoord **AL** die vrae.
2. Nommer die antwoorde presies soos die vrae genommer is.
3. Skryf netjies en leesbaar.
4. Dien beide vraestel en antwoordblad in.

VRAAG 1

Bestudeer die kaart hieronder en beantwoord die vrae wat volg.

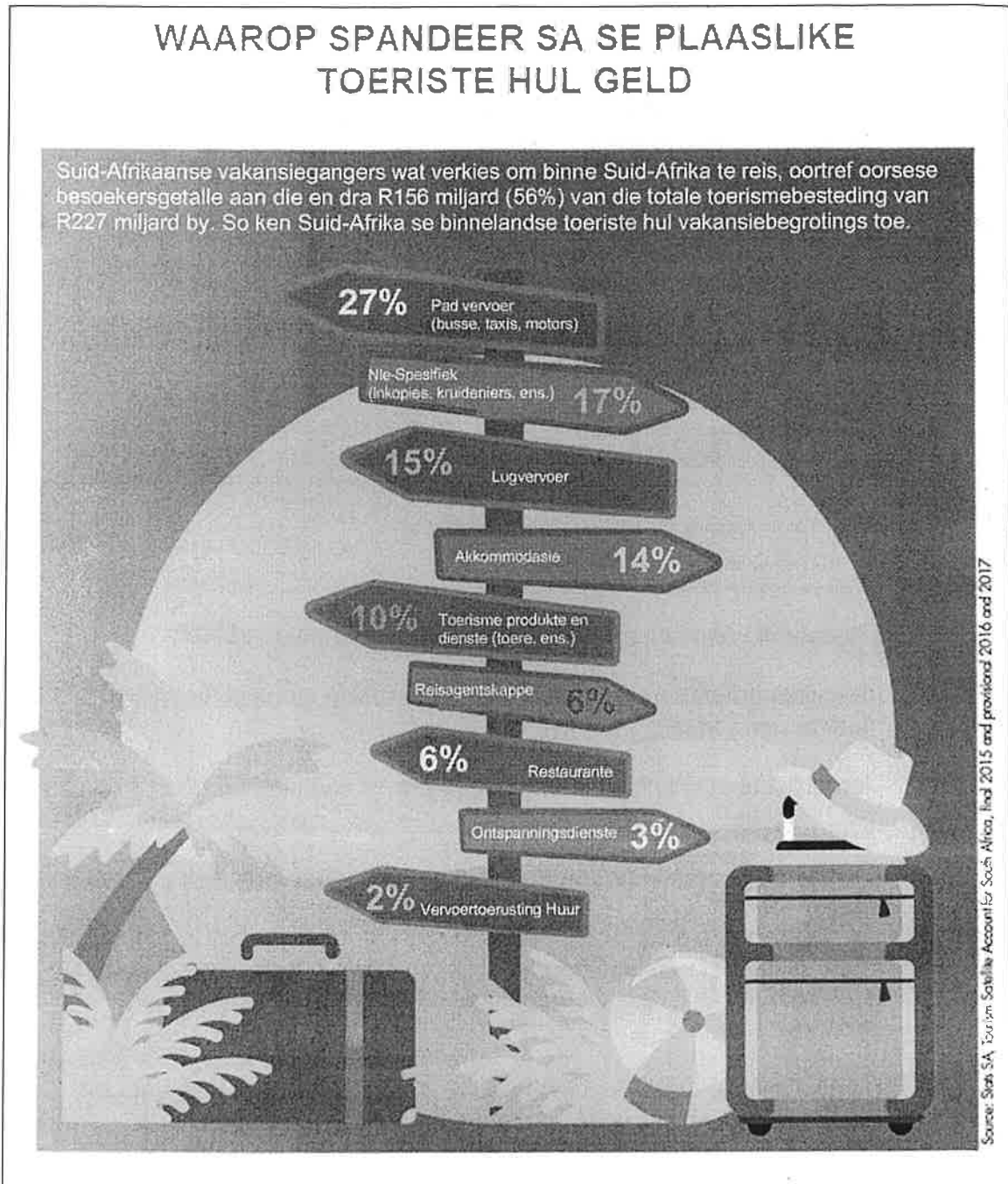


-
- 1.1 Identifiseer die aantal elemente wat in die legende of sleutel op die kaart aangedui word. (1)
- 1.2 Noem hoe die hoofstede aangedui word. (2)
- 1.3 Noem die hoofstad en sy land wat op die kaart aangedui word. (2)
- 1.4 Noem die hoofstede van die volgende provinsies: Wes-Kaap, KwaZulu-Natal en Gauteng (Wenk: nie op die kaart aangedui nie) (3)
- 1.5 Afgesien van die legende of sleutel, identifiseer twee kaartelemente wat op die twee teenoorgestelde hoeke geleë is. (2)
- 1.6 Tel die totale aantal besienswaardighede wat op die kaart aangedui word. (1)
- 1.7 Lys, vanaf die kaart, slegs die besienswaardighede in Gauteng, KwaZulu-Natal en die Wes-Kaap (9)

[20]

VRAAG 2

Bestudeer die infografika hieronder en beantwoord die vrae wat volg



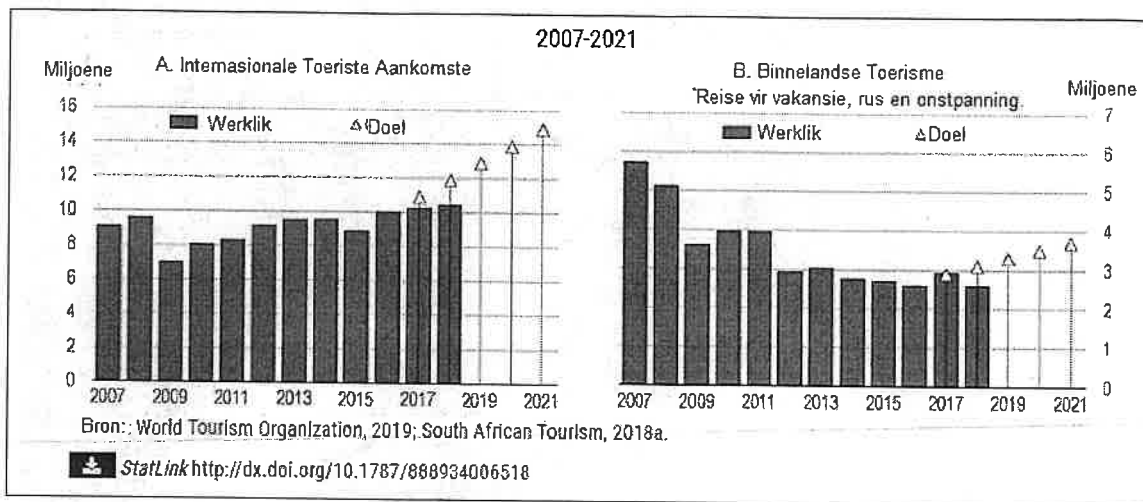
- 2.1 Die term binnelandse toeriste verwys na ... (2)
- 2.2 Identifiseer die derde laagste kategorie waaraan geld bestee word. (2)
- 2.3 Verskaf 'n moontlike rede vir Vraag 2.2 hierbo. (2)
- 2.4 Bepaal die hoeveelheid geld wat deur internasionale toeriste in Suid-Afrika gegeneer word. (2)

- 2.5 Identifiseer die departement wat verantwoordelik is vir die insameling van statistieke in Suid-Afrika. (2)

VRAAG 3

[10]

Bestudeer die grafiek hieronder en beantwoord die vrae wat volg.



- 3.1 Bepaal die aantal internasionale toeriste-aankomste in 2017. (2)
- 3.2 Identifiseer die aantal binnelandse toeriste wat vir dieselfde tydperk hierbo aangedui is. (2)
- 3.2.1 Vergelyk die statistieke hierbo. Bepaal watter aankomste meer was en met hoeveel. (2)
- 3.2.2 Bepaal die geprojekteerde doel vir internasionale toeriste-aankomste in 2021. (2)
- 3.3 Internasionale toeriste is noodsaaklik om die ekonomie 'n hupstoot te gee. Verduidelik TWEE voordele wat dit op die Suid-Afrikaanse ekonomie kan hê. (4)
- 3.4 Uit die grafiek hierbo het binnelandse toerisme geleidelik afgeneem. Gee twee moontlike redes vir hierdie afname. (4)
- 3.5 Stel voor hoe dit oorkom kan word, om die Suid-Afrikaanse ekonomie en die toerismesektor 'n hupstoot te gee. (4)

[20]

TOTAAL 50 PUNTE

[50]